

# 月 日 曜日 天気:

AとBを見比べて、いくら違うか答えましょう。

①

A



B



答え：B が 90円 多い。

②

A



B



答え：B が 5円 多い。

③

A



B



答え：A が 90円 多い。

# 月 日 曜日 天気:

AとBを見比べて、いくら違うか答えましょう。

①

A



B



答え：A が 8 円多い。

②

A



B



答え：A が 200 円多い。

③

A



B



答え：A が 404 円多い。

# 月 日 曜日 天気:

おつりを計算しましょう！

買った金額と支払ったお金から、おつりを計算し、おつりに必要なお金の枚数を書きましょう。

① 買った金額：972円  
(支払ったお金)



( 1,000 ) 円

おつり( 28 ) 円

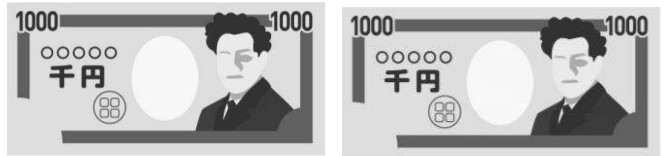
おつりに必要なお金

10円玉=( 2 ) 枚

5円玉=( 1 ) 枚

1円玉=( 3 ) 枚

② 買った金額：1,725円  
(支払ったお金)



( 2,000 ) 円

おつり( 275 ) 円

おつりに必要なお金

100円玉=( 2 ) 枚

50円玉=( 1 ) 枚

10円玉=( 2 ) 枚

5円玉=( 1 ) 枚

③ 買った金額：3,348円  
(支払ったお金)



( 5,000 ) 円

おつり( 1,652 ) 円

おつりに必要なお金

1,000円札=( 1 ) 枚

500円玉=( 1 ) 枚

100円玉=( 1 ) 枚

50円玉=( 1 ) 枚

1円玉=( 2 ) 枚

④ 買った金額：16,800円  
(支払ったお金)



( 20,000 ) 円

おつり( 3,200 ) 円

おつりに必要なお金

1,000円札=( 3 ) 枚

100円玉=( 2 ) 枚

# 月 日 曜日 天気:

おつりを計算しましょう！

買った金額と支払ったお金から、おつりを計算し、おつりに必要なお金の枚数を書きましょう。

① 買った金額：258円  
(支払ったお金)



( 300 ) 円


おつり( 42 ) 円

おつりに必要なお金

10円玉=( 4 ) 枚

1円玉=( 2 ) 枚

② 買った金額：1,340円  
(支払ったお金)



( 2,000 ) 円

おつり( 660 ) 円

おつりに必要なお金

500円玉=( 1 ) 枚

100円玉=( 1 ) 枚

50円玉=( 1 ) 枚

10円玉=( 1 ) 枚

③ 買った金額：5,250円  
(支払ったお金)



( 6,000 ) 円

おつり( 750 ) 円

おつりに必要なお金

500円玉=( 1 ) 枚

100円玉=( 2 ) 枚

50円玉=( 1 ) 枚

④ 買った金額：670円  
(支払ったお金)



( 10,000 ) 円

おつり( 9,330 ) 円

おつりに必要なお金

5,000円札=( 1 ) 枚

1,000円札=( 4 ) 枚

100円玉=( 3 ) 枚


10円玉=( 3 ) 枚

# 月 日 曜日 天気:

おつりを計算しましょう！

買った金額と支払ったお金から、おつりを計算し、おつりに必要なお金の枚数を書きましょう。

① 買った金額：652円  
(支払ったお金)



( 700 ) 円  
おつり( 48 ) 円

おつりに必要なお金

10円玉=( 4 ) 枚  
5円玉=( 1 ) 枚  
1円玉=( 3 ) 枚

② 買った金額：1,623円  
(支払ったお金)



( 2,000 ) 円  
おつり( 377 ) 円

おつりに必要なお金

100円玉=( 3 ) 枚  
50円玉=( 1 ) 枚  
10円玉=( 2 ) 枚  
5円玉=( 1 ) 枚  
1円玉=( 2 ) 枚

③ 買った金額：3,171円  
(支払ったお金)



( 5,000 ) 円  
おつり( 1,829 ) 円

おつりに必要なお金

1,000円札=( 1 ) 枚  
500円玉=( 1 ) 枚  
100円玉=( 3 ) 枚  
10円玉=( 2 ) 枚  
5円玉=( 1 ) 枚  
1円玉=( 4 ) 枚

④ 買った金額：13,200円  
(支払ったお金)



( 15,000 ) 円  
おつり( 1,800 ) 円

おつりに必要なお金

1,000円札=( 1 ) 枚  
500円玉=( 1 ) 枚  
100円玉=( 3 ) 枚

# 月 日 曜日 天気:

おつりを計算しましょう！

買った金額と支払ったお金から、おつりを計算し、おつりに必要なお金の枚数を書きましょう。

① 買った金額: 225円  
(支払ったお金)



( 500 )円

おつり( 275 )円

おつりに必要なお金

100円玉=( 2 )枚

50円玉=( 1 )枚

10円玉=( 2 )枚

5円玉=( 1 )枚

② 買った金額: 160円  
(支払ったお金)



( 1,000 )円

おつり( 840 )円


おつりに必要なお金

500円玉=( 1 )枚

100円玉=( 3 )枚

10円玉=( 4 )枚

③ 買った金額: 1,286円  
(支払ったお金)



( 5,000 )円

おつり( 3,714 )円

おつりに必要なお金

1,000円札=( 3 )枚

500円玉=( 1 )枚

100円玉=( 2 )枚

10円玉=( 1 )枚

1円玉=( 4 )枚

④ 買った金額: 1,113円  
(支払ったお金)



( 2,015 )円

おつり( 902 )円

おつりに必要なお金

500円玉=( 1 )枚

100円玉=( 4 )枚

1円玉=( 2 )枚