

月 日 曜日 天気: シートを見て答えましょう

おおかわストア

みたらし団子 (特売 30%割引)	300円 - ?円
ヨーグルト (特売 20%割引)	125円 -25円
あんパン (特売 5%割引)	129円 -6円
アイスクリーム (95円×3)	285円
ラーメン (5袋入)	330円
マヨネーズ	298円
豆腐	118円
お買い上げ点数	9点
小計	1,585円
割引額	121円
税抜金額	1,464円
消費税 8%	117円
合計金額	1,581円
お預かり	2,001円
お釣り	A
前回累計ポイント	298点
今回ポイント	47点
累計ポイント	345点

問1. みたらし団子は何円割引ですか？

90円

問2. アイスクリームは何個買いましたか？

3個

問3. 5%割引の品物は何ですか？

あんパン

問4. 300円以上の品物は何ですか？

ラーメン

問5. 消費税は何円ですか？

117円

問6. 買い物金額は何円ですか？

1,581円

問7. おつり(A)は何円ですか？

420円

問8. 今回の獲得ポイントと、合計のポイントは
何円ですか？

今回のポイント: 47 ポイント

合計のポイント: 345 ポイント



月 日 曜日 天気：
レシートを見て答えましょう

おおかわストア	
ウインナー	460円
(特売 20%割引)	-92円
ヨーグルト	125円
(特売 20%割引)	-25円
食パン	129円
(特売 5%割引)	-6円
アイスクリーム	255円
(85円×3)	
ラーメン (5袋入)	330円
マヨネーズ	298円
お買い上げ点数	8点
小計	1597円
割引額	123円
税抜金額	1474円
消費税 8%	118円
合計金額	1592円
お預かり	2002円
お釣り	A
前回累計ポイント	362点
今回ポイント	8点
累計ポイント	370点

問1. 20%割引の品物は何ですか？

ウインナー・ヨーグルト

問2. アイスクリームは1個何円ですか？

85円

問3. ヨーグルトは何%割引ですか？

20%

問4. 何点(何個)品物を買いましたか？

8点(個)

問5. 消費税は何円ですか？

118円

問6. 買い物金額は何円ですか？

1,592円

問7. おつり(A)は何円ですか？

410円

問8. 今回の獲得ポイントと、合計のポイントは
何円ですか？


今回のポイント： 8 ポイント


合計のポイント： 370 ポイント




月 日 曜日 天気:

1. トマトとたまねぎがたくさんあります。それぞれいくつあるか数えましょう。



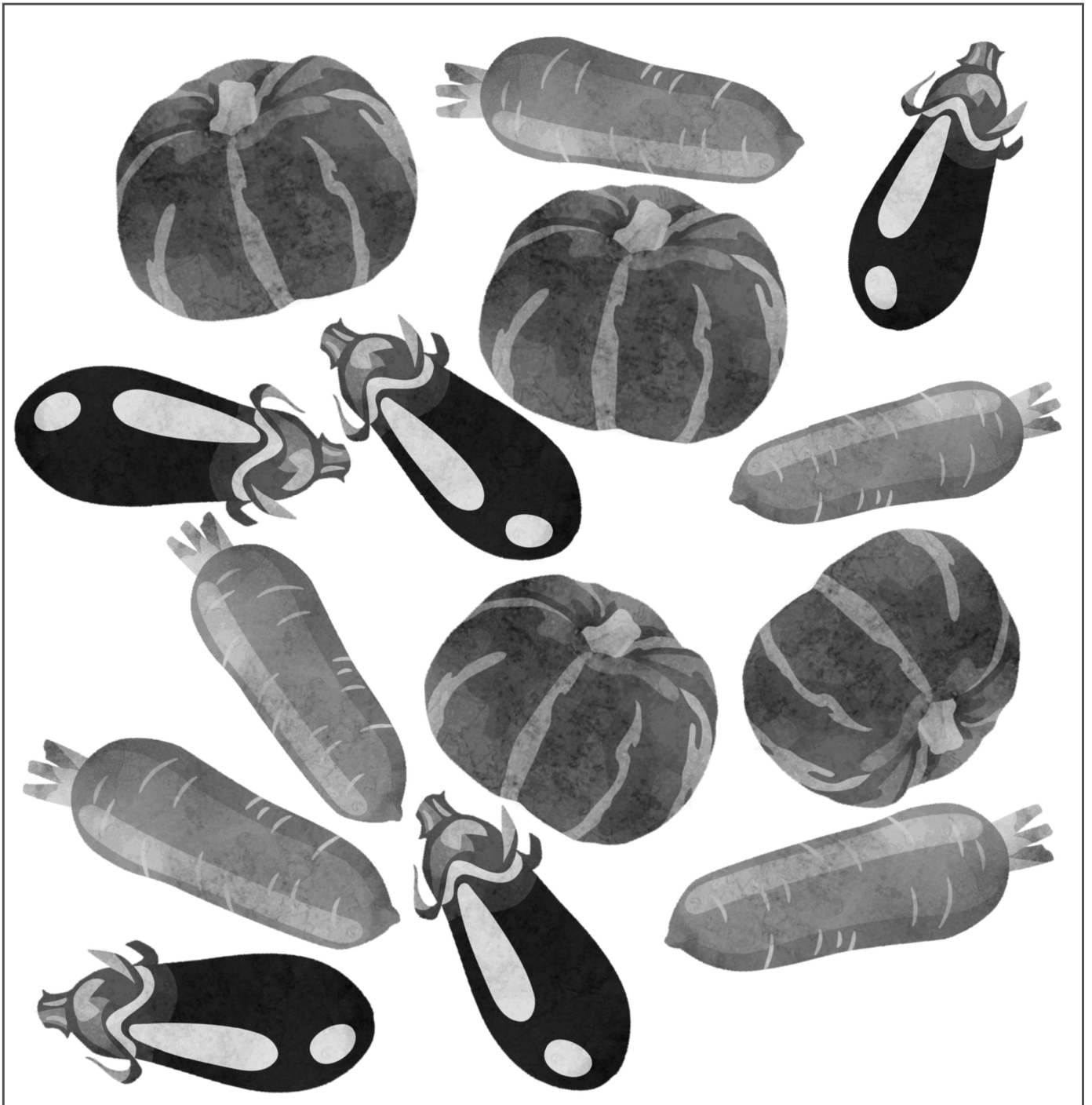
- ①  トマトは、いくつですか？

答え : 5 個

- ②  たまねぎは、いくつですか？


答え : 8 個

2. かぼちゃ・なす・にんじんがたくさんあります。
それぞれいくつあるか数えましょう。



①  かぼちゃは、いくつですか？

答え： 4 個

②  なすは、いくつですか？

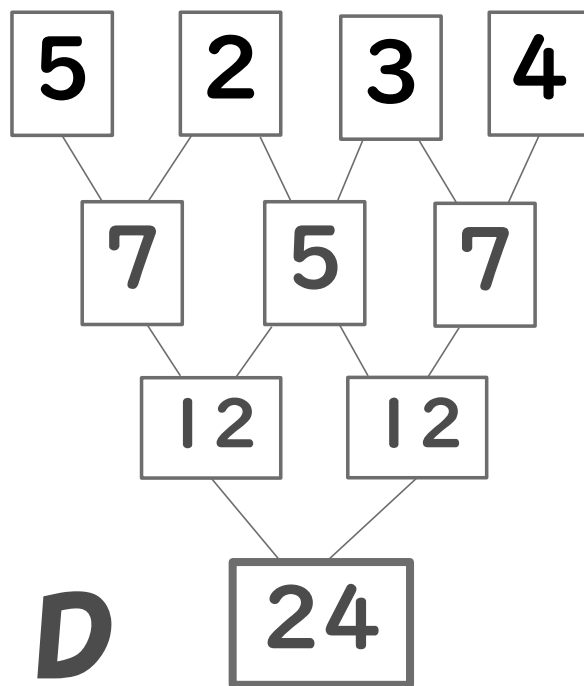
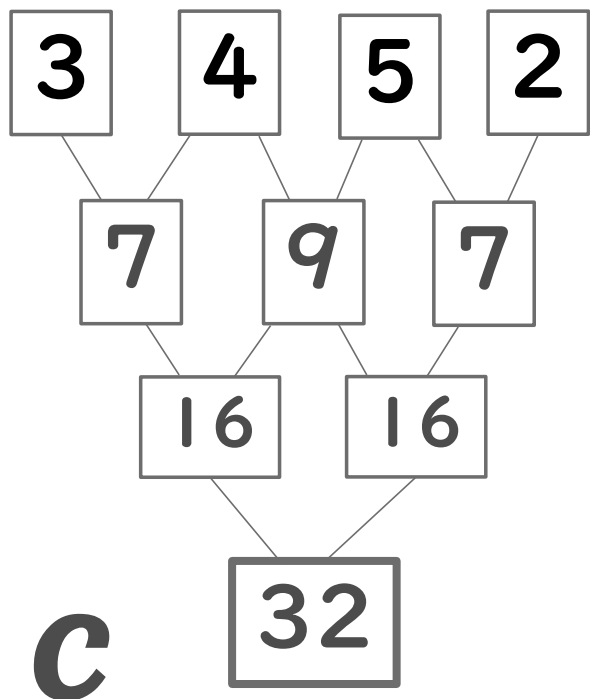
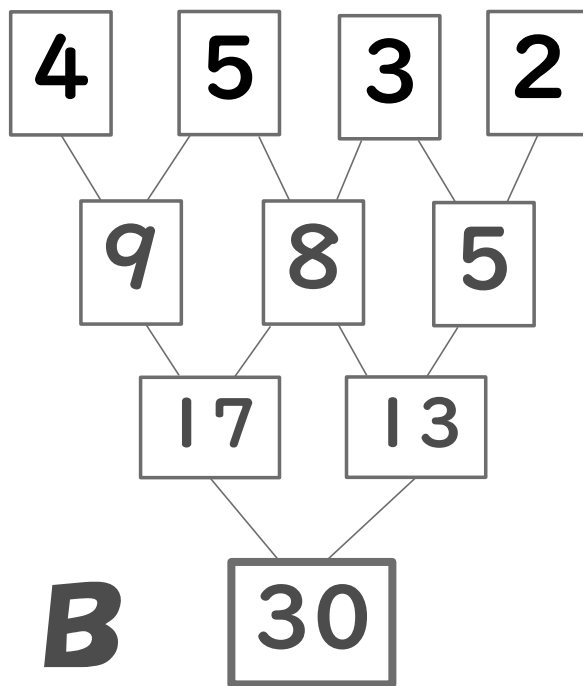
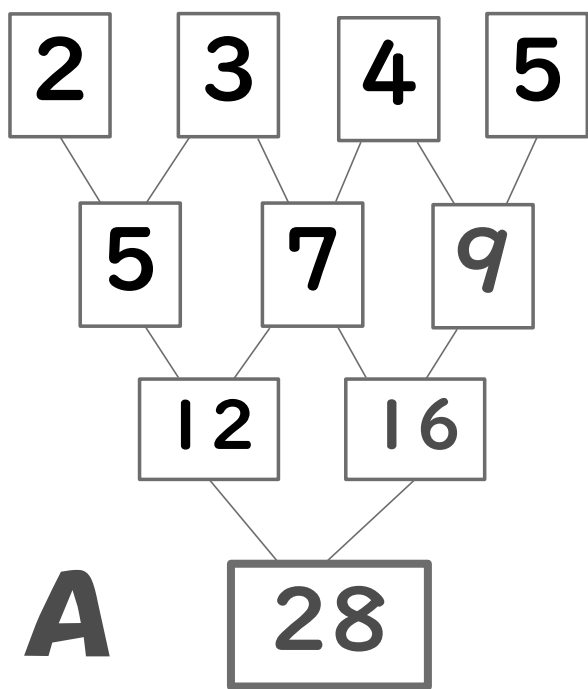
答え： 5 本

③  にんじんは、いくつですか？

答え： 5 本

日 月 日 曜日 天気:

となり合った2つの数字を足し算し、答えを下のマスに書き込んでください。
順番に足し算を続け、最後のマスの数字がいちばん大きくなるのはA~Dの
どれでしょう？



最後のマスの数字が
一番大きいのは？

C